







Défidocs 2013

Géographie

Question 1 : Le 13 (département des Bouches-du-Rhône)

Complète le tableau suivant :

Nom	Altitude	Photos
Le pic des mouches, Montagne Sainte-Victoire	1011 m	
Mont Olympe	815 ou 819 m	
Pic de Bertagne	1041 ou 1042 m, point culminant du département	
Cap Canaille	399 ou 405 m	

Question 2 : Le XIIIème arrondissement de Paris

a) Une communauté étrangère importante habite cet arrondissement. Laquelle ?


Réponse : **La communauté asiatique**

b) Parmi les monuments suivants, quels sont ceux qui appartiennent au XIIIème arrondissement (supprime les autres) ?

La Tour Eiffel, la Bibliothèque François-Mitterrand, la gare d'Austerlitz, le Jardin des Plantes, la manufacture des Gobelins, le Musée d'Orsay, l'hôpital de la Pitié-Salpêtrière, le Panthéon.

c) A quel endroit précis du XIIIème ont atterri Pilâtre de Rozier et le Marquis d'Arlandes lors du premier vol humain en aérostat ?

Réponse : **La Butte-aux-Cailles.**



Question 3 : Autoroute A13

a) Quelle est la longueur de l'autoroute A13 ?

Réponse : **223 km**

b) Quand a-t-elle été entièrement ouverte à la circulation ?

Réponse : **9 juin 1946**

c) Un automobiliste francilien veut aller sur le bord de mer et emprunte l'autoroute A13.

Remets les villes qu'il traversera dans l'ordre de son trajet.

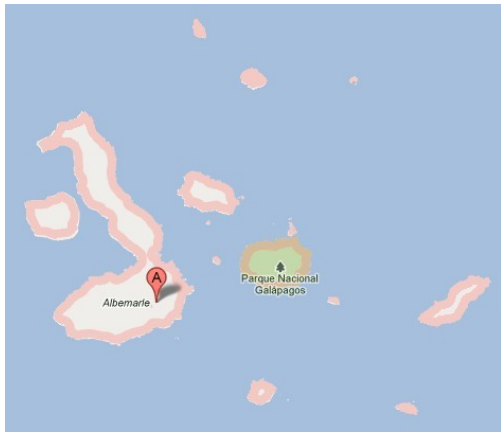
Rouen	Paris
Caen	Nanterre
Nanterre	Mantes-la-Ville
Pont-l'Évêque	Rouen
Paris	Pont-l'Évêque
Mantes-la-Ville	Caen

Question 4 : Les îles Galapagos (Équateur)

Complète le tableau suivant :

Nombre d'îles principales	13 (5 accepté)
Nombre d'îles habitées	5
Superficie	8010 km ² (140 665 km ² accepté)
Population	25000 habitants
Capitale	Puerto Baquerizo Moreno
Point Culminant	Mont Wolf sur l'île Isabela : 1 710 m

Avec [Google Maps](https://www.google.com/maps), copie et colle la carte des îles Galapagos



Question 5 : Latitude 13 et longitude 13

Je suis une ville qui a pour longitude 13° et pour latitude 13°. Qui suis-je ? Dans quel pays suis-je située ?

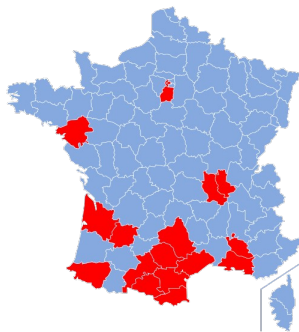
Aide : Rends-toi sur le site « Findlatitudeandlongitude.com »

Entrer les coordonnées latitude et longitude dans le tableau (sous la carte), zoomer pour avoir le nom de la ville.

Réponse : **Garunda, Nigéria**

Question 6 : Rugby à 13

Le rugby à 13 est beaucoup moins pratiqué que le rugby à 15 que l'on peut voir à la télévision. La carte ci-dessous montre les départements de France dans lesquels il existe des clubs de rugby à 13.



a) D'après la carte, cite quatre départements où l'on pratique le rugby à XIII.

b) Quel est le seul État ayant le rugby à XIII pour sport national exclusif ?

Réponse : **La Papouasie Nouvelle-Guinée**

Cartographie du rugby à XIII en France

c) Trouve une carte de ce pays et copie-la ici.

