

# 2022 Arts 1

Créé le : 28 janv. 2020

Date limite : Pas encore diffusé



## Arts 1 : Cinéma

*L'Antiquité égyptienne a inspiré de nombreux artistes et notamment les cinéastes.*

Regardez cet extrait de film qui se déroule en Égypte.

Document vidéo

Source : <https://www.youtube-nocookie.com/embed/LlvJp2pq6AI>

1

Comment appelle-t-on ce genre de film ayant pour sujet un épisode de l'Antiquité ou des aventures (réelles ou fictives) se passant à cette période ?

Coef. 1

2

Ce mot est dérivé d'un mot latin. Trouvez sa signification.

Coef. 1

3

Quel célèbre personnage égyptien a été le plus utilisé dans ce genre cinématographique depuis les origines du cinéma ?

Coef. 1

4

Cherchez le plus ancien film dans lequel ce personnage apparaît. Indiquez son auteur et l'année de sortie du film.

Coef. 1

Trouvez une photo du film sur laquelle apparaît le personnage.

Coef. 1

### FIN DU QUESTIONNAIRE

Lorsque vous avez terminé le questionnaire, vérifiez-le bien, indiquez le **numéro de dossier de votre classe** dans le champ "**Écrivez votre pseudo ici**" en haut à droite de l'écran et cliquez sur "**Envoyer sa copie**".

**Ne répondez qu'UNE SEULE FOIS**, seule votre première réponse sera examinée.



## 2022 Arts 2

Créé le : 28 janv. 2020

Date limite : Pas encore diffusé



### Arts 2 : Architecture

*Les Égyptiens étaient un peuple de grands bâtisseurs dont la pyramide reste aujourd'hui un emblème majeur.*

1

Complétez la définition de la pyramide égyptienne en choisissant 8 des mots proposés.

triangulaires - tombeau - servait - pharaons - rectangulaire - monument - pointe - hexagonales - quatre - ovale - temple - six - empereur

Grand \_\_\_\_\_ à base \_\_\_\_\_ et à \_\_\_\_\_ faces

\_\_\_\_\_ se terminant en \_\_\_\_\_ qui \_\_\_\_\_ de

\_\_\_\_\_ aux \_\_\_\_\_ .

Collez la photo d'une spécialité berrichonne qui s'inspire de cette forme.

Coef. 1


Il n'y a pas que les Égyptiens qui ont réalisé des constructions en utilisant la forme géométrique pyramidale.

Pour chaque photo, retrouvez **le nom, la ville et le pays de chaque pyramide.**




Coef. 1





Coef. 1



Coef. 1

## **FIN DU QUESTIONNAIRE**

Lorsque vous avez terminé le questionnaire, vérifiez-le bien, indiquez le **numéro de dossard de votre classe** dans le champ "**Écrivez votre pseudo ici**" en haut à droite de l'écran et cliquez sur "**Envoyer sa copie**".

**Ne répondez qu'UNE SEULE FOIS**, seule votre première réponse sera examinée.



## 2022 Arts 3

Créé le : 28 janv. 2020

Date limite : Pas encore diffusé



### Arts 3 : Musique

*La musique égyptienne a toujours été une partie importante de la culture en Égypte. Les premiers instruments de musique remontent à la fin de la Préhistoire.*

1

Il existe 3 grandes familles d'instruments. Trouvez pour chacune d'entre elles un instrument ayant pu exister à l'époque égyptienne antique.

Entourez ci-dessous les 3 musiciens de l'orchestre d'aujourd'hui qui utilisent l'instrument le plus proche de l'instrument égyptien ancien.



Coef. 1

### FIN DU QUESTIONNAIRE

Lorsque vous avez terminé le questionnaire, vérifiez-le bien, indiquez le **numéro de dossard votre classe** dans le champ "**Écrivez votre pseudo ici**" en haut à droite de l'écran et cliquez sur "**Envoyer sa copie**".

**Ne répondez qu'UNE SEULE FOIS**, seule votre première réponse sera examinée.

## 2022 Arts 4

Créé le : 28 janv. 2020

Date limite : Pas encore diffusé



### Arts 4 : Peinture

*La peinture dans l'Égypte Antique est un domaine important de l'art égyptien.*

Les Égyptiens avaient une manière particulière de représenter les choses par le dessin.

Technique A : Les différentes parties des corps des personnages pouvaient être présentées soit de face soit de profil.

Technique B : Pour représenter une action, on pouvait juxtaposer les différentes étapes sur un même dessin (à la manière d'une bande dessinée).

Technique C : Des choses non visibles comme les pensées des personnages ou les intérieurs de maison pouvaient être montrés dans le dessin.

1

Pour chaque dessin, indiquez A, B ou C en fonction de la technique utilisée.






*Dessin provenant du sarcophage de Tanethererete*



Coef. 1



*Dessin provenant de la chapelle de Rekhmirê*



Coef. 1



*Dessin provenant de la tombe de Néfertiti*

Coef. 1

2

La technique A porte un nom spécifique, quel est-il ?

3

Aujourd'hui on utilise une autre technique de dessin qui lui est opposée. Trouvez son nom.



Coef. 1

### FIN DU QUESTIONNAIRE

Lorsque vous avez terminé le questionnaire, vérifiez-le bien, indiquez le **numéro de dossard de votre classe** dans le champ "**Écrivez votre pseudo ici**" en haut à droite de l'écran et cliquez sur "**Envoyer sa copie**".

**Ne répondez qu'UNE SEULE FOIS**, seule votre première réponse sera examinée.