

Questionnaire Géographie



Question n°1 : Sports nationaux à travers le monde

Recopie et complète le tableau :

Pays	Sport national
Chine	Tennis de table
Canada, Russie, Finlande, Suède	Hockey sur glace
France	Football
Autriche, Estonie	Ski
Nouvelle Zélande,	Rugby
Inde, Australie	Cricket
Kazakhstan	Cyclisme
Danemark	Handball

Question n°2 : Pratique du football dans le monde

En utilisant les données présentes sur ce site, <http://cartofoot.free.fr/>, trouve :

- 1) 4 des 5 pays du monde où la part de la population pratiquant le football est la plus élevée ; Allemagne, Chili, Costa Rica, Guatemala, Paraguay
- 2) les 4 pays du monde où il y a le plus grand nombre de pratiquants de football.
Allemagne, USA, Chine, Brésil, Inde

Question n°3 : Les pays d'Europe

Parmi tous les pays qui ont participé aux éliminatoires de l'Euro 2016, retrouve :

- 1) 2 pays qui n'appartiennent pas au continent européen ;
Israël, Kazakhstan, Géorgie, Arménie, Azerbaïdjan (acceptable : Russie, Turquie)
- 2) 2 pays qui n'ont aucune frontière maritime.
Suisse, Luxembourg, Autriche, République Tchèque, Slovaquie, Hongrie, Slovénie, Bosnie, Serbie, Macédoine, Moldavie, Biélorussie

Question n°4 : Capitales européennes

Sur la carte d'Europe, place les noms des 4 capitales des pays du groupe F de l'Euro 2016.

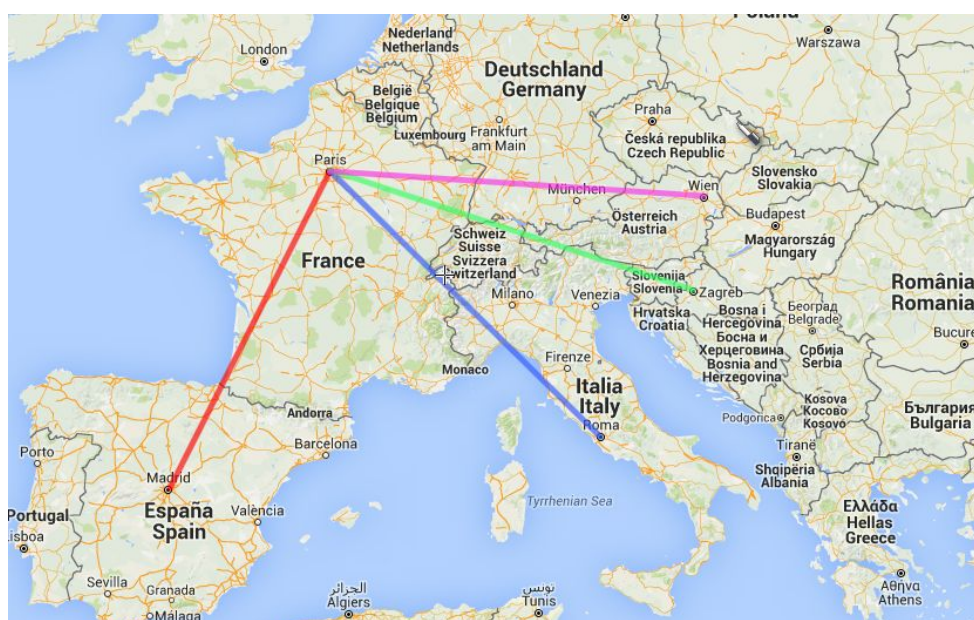


Question n°5 : Se rendre à l'Euro

Vincente, Antonio, Ante et Marcel, sélectionneurs de l'Espagne, l'Italie, la Croatie et l'Autriche partent de leur capitale respective pour rejoindre Paris et venir jouer l'Euro avec leur équipe nationale.

Pour réaliser l'épreuve, utilise le site [Scribblemap](https://www.scribblemap.com/).

- Choisis **"Road"** en bas à droite pour faire apparaître la carte.
- Avec l'outil **"Main" (Move the map)**, déplace-toi.
- Utilise **+ et -** en haut à droite pour zoomer sur la carte.
- Avec l'outil **"Ligne" (Draw a straight line)**, trace les 4 trajets parcourus en ligne droite. **N'oublie pas de retenir la distance qui s'affiche quand tu traces.**
- Avec l'outil **"Texte" (Place a text label)**, écris chaque distance en kilomètres.
- Fais une capture d'écran de la carte produite.



Paris Vienne : 1032 km
Paris Madrid : 1053 km
Paris Zagreb : 1077 km
Paris Rome : 1105 km

Question n°6 : Trouve les 5 stades

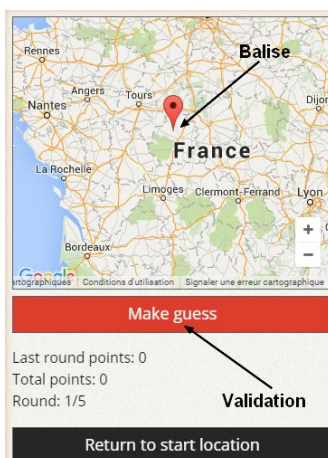
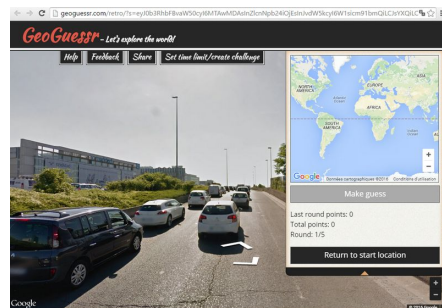
Tu vas devoir localiser sur une carte les stades de **Lens**, **Lille**, **Marseille**, **Paris** et **Saint-Etienne** où se dérouleront des matchs de l'Euro 2016.

Rends-toi sur ce [lien](#) et observe bien la première photo qui apparaît à l'écran.

En cliquant sur les flèches, tu peux te déplacer sur les routes, tu peux également faire glisser l'image vers la droite ou la gauche.

Cherche des indices.

Lorsque tu penses avoir trouvé la ville, il faut la situer sur la carte à droite : zoome et déplace-toi pour atteindre la ville. Clique sur la carte pour poser une balise à l'endroit du stade et valide en cliquant sur "Make guess".



Une fenêtre s'affiche avec le nombre de points obtenus selon ta réponse. Plus tu es proche du lieu exact du stade, plus tu obtiendras de points.

Ferme cette fenêtre et continue le jeu. Lorsque tu as retrouvé les 5 stades, ton total des points s'affiche.

Clique sur "CLICK TO GET SHARE URL", une url (adresse internet) s'affiche. Copie-la et colle-la bien dans tes réponses (<http://url.geoguessr.com/ZZZZ>).

Nombre de points obtenus :

Url :

Challenge game finished!
You lost the challenge with 8388 points against 10000.

Share your score with the url: [click to get share url](#)

[Like](#) 85K [G+](#) 23K [Tweet](#) [Pin it](#) [Share](#) 166K

