

Les corrigés Défidocs 2008

Personnalités	Corrigé		page 02
Sciences et techniques	Corrigé		page 04
Géographie	Corrigé		page 06
Histoire	Corrigé		page 09
Sports	Corrigé		page 11
Arts	Corrigé		page 14



Défidocs 2008 : Personnalités Corrigé

Question 1

- a) A partir de quelle année les femmes ont-elles pu participer aux J.O. ?
- b) Aux J.O. de Paris en 1924, après une médaille sur 400 m, l'Ecossais Eric Liddell refusa de courir le 100 m, pourquoi ?
Garde la bonne réponse :
- Etant pasteur, il refusa de courir un dimanche.
 - Il avait de mauvaises chaussures.
 - Il avait peur de ne pas réussir.
- c) Pour quelle raison l'athlète Abebe Bikila a-t-il fait sensation au marathon des J.O. de Rome en 1960 ?

Réponses :



- a) 1900
- b) Etant pasteur, il refusa de courir un dimanche.
- c) Il a remporté le marathon pieds nus.

Question 2

- a) Trouve les deux mascottes « **Chien** » des Jeux Olympiques d'été et insère leurs images dans le tableau. Trouve leurs noms, les dates et villes correspondantes.

J.O : ville + date		
mascotte chien		
nom		

Réponse :

J.O : ville + date	Munich 1972	Barcelone 1992
mascotte chien		
nom	Waldi	Cobi

http://www.olympic.org/fr/passion/collectors/search_fr.asp

Question 3

- a) Les deux champions olympiques, Emile Zatopek et Dana Zatopkova, étaient mariés. Trouve 2

coïncidences dans leur biographie (leur vie).

b) Quelles étaient leurs disciplines olympiques ?

Réponse :

a) Mariés, ces 2 athlètes tchécoslovaques étaient inséparables. Non seulement ils sont nés le même jour (19 septembre 1922), mais ils ont également été médaillés d'or aux Jeux Olympiques de 1952, le même jour à une heure d'intervalle !

b) La "locomotive" Zatopek était un spécialiste du 5 000 m et du 10 000 m. Il a été 18 fois recordman du monde. Sa femme Zatopkova était championne de javelot.

<http://www.linternaute.com/sport/magazine/portrait/couples-du-sport/savoir-plus.shtml>

Question 4

a) Qui a dessiné la médaille des JO de 1928 d' Amsterdam ?

b) Cet artiste a commis une erreur (qui a subsisté jusqu'en 2004) dans la réalisation de cette médaille. Laquelle ?

Réponse :

a) l'Italien Giuseppe Cassioli ;

b) le Colisée romain disparaît des médailles à l'occasion des JO d'Athènes en 2004 (les Jeux Olympiques sont nés en Grèce, et non en Italie) Sur la face de la médaille figurent désormais la déesse Niké et le stade Panathinaïko, théâtre des premiers Jeux de l'ère moderne en 1896

[Source : http://www.olympic.org/fr/games/past/index_fr.asp?OLGT=1&OLGY=2004](http://www.olympic.org/fr/games/past/index_fr.asp?OLGT=1&OLGY=2004)

Question 5

Trouve les 4 athlètes ayant gagné chacun 9 médailles d'or aux Jeux olympiques.

Réponses :

4 parmi : Carl Lewis ; Mark Spitz ; Paavo Nurmi ; Larisa Latinina

<http://www.linternaute.com/sport/magazine/dossier/les-records-qui-tiennent-toujours/9.shtml>

Question 6

A partir de ce site : http://www.dailymotion.com/video/xhx5z_200m-mexico-1968, visionne la vidéo de la course du 200m des J.O de Mexico en 1968.

a) Donne le nom des 3 athlètes sur le podium.

b) Qu'ont-ils fait lors des hymnes nationaux en signe de protestation ? Pourquoi ?

Réponse :

a) 1. Smith Tommie (USA) ; 2. Norman Peter (AUS) ; 3. Carlos John (USA)

b) Ils sont montés sur le podium du 200 mètres comptant pour les JO de Mexico en 68 en faisant le « black power salute » lors des hymnes nationaux, signe ostentatoire de protestation contre le traitement infligé, sur leur sol, à la minorité noire américaine.





Défidocs 2008 / Sciences et techniques Corrigé

Question 1





a) Donne le nom de 4 techniques de saut en hauteur.

b) Cherche une photo de cette discipline, colle-la ci-dessous et indique de quelle technique il s'agit.

Réponse :

a) Ciseau, rouleau costal, rouleau ventral et Fosbury

b) Un seul exemple suffisait :

<p>Ciseau</p> <p>L'athlète saute en élevant la première</p>  <p>jambe, et quand il est passé, il élève l'autre, en retombant.</p>	<p>Rouleau costal</p> <p>L'athlète attaque la barre de face et saute à l'horizontale, sur le côté, la jambe d'appel pliée, sous lui.</p> 	<p>Rouleau ventral</p> <p>L'athlète attaque l'obstacle latéralement en s'enroulant, littéralement autour de la barre, à l'horizontale.</p> 	<p>Fosbury</p> <p>L'athlète arrive dos à l'obstacle et saute de dos, en levant les deux jambes en dernier au-dessus de la barre.</p> 
---	---	--	---

Source : http://fr.wikipedia.org/wiki/Saut_en_hauteur , <http://membres.lycos.fr/hauteur/technique.php>

Question 2

En 1798, lors de la fête de la Fondation de la République du 1er vendémiaire, l'astronome Bouvard parvint à chronométrer une épreuve de course à pied avec des temps au 1/50ème de seconde.

a) Quels instruments utilisa-t-il ?

b) Où cette fête se déroulait-elle ?

Réponse :

a) Deux montres marines ;

b) Au champ de Mars à Paris.

Lors de la fête de la Fondation de la République du 1er vendémiaire 1798 au champ de Mars à Paris, l'astronome Bouvard utilise deux "excellentes montres marines, construites par deux célèbres artistes" dont il tira des temps au 1/50 de seconde.

Source : <http://home.nordnet.fr/~scharlet/histoire/modifica.htm>

Question 3

a) Classer dans l'ordre chronologique de leur apparition ces innovations techniques pour le sprint :
-les starting-blocks - le revêtement en tartan - la photo finish -Les chaussures à pointe

b) En quelle année les starting-blocks sont-ils apparus aux Jeux Olympiques ?

Réponse :

a) Les chaussures à pointe (première utilisation : 11 nov. 1868, New York) - Photo-finish (1912 -JO de Stockholm)- Starting-blocks (1928)- Tartan (1968 -JO de Mexico) ;

b) En 1948.

En 1887, l'Américain Charles Sherill creuse légèrement la piste derrière la ligne de départ dans le

but d'obtenir une meilleure impulsion au démarrage. Cette innovation est à l'origine de l'invention du starting-block par les Américains George Breshnahan et William Tuttle en 1928, qui est interdit dans un premier temps par l'IAAF (International Association of Athletics Federations) (jusqu'en 1937).

[http://fr.wikipedia.org/wiki/100_m%C3%A8tres_\(athl%C3%A9tisme\)](http://fr.wikipedia.org/wiki/100_m%C3%A8tres_(athl%C3%A9tisme))

Question 4

Lors d'un effort sportif, un muscle a besoin d'un gaz pour assimiler les sucres et les graisses.

- a) Donne son nom.
- b) Par quoi est-il transporté dans le sang ?

Réponse :

- a) L'oxygène ou le dioxygène
- b) Les globules rouges ou l'hémoglobine

Question 5

a) Plus de 160 000 personnes suivent pour la première fois sur un écran de télévision les grands moments des Jeux. De quelle olympiade s'agit-il ?

b) En quelle année la TSF a-t-elle fait son apparition aux Jeux Olympiques ?

Réponse :

- a) Les jeux olympiques de Berlin (1936)
- b) En 1924

Aux Jeux Olympiques de Paris, les amateurs de sport peuvent suivre en direct les épreuves à la radio. Le commentateur est installé dans la nacelle d'un ballon au dessus du stade.

<http://www.radiofrance.fr/sydney/histoire/histo/1924-3.php>

Question 6

En octobre 2007, L'UNEP (United Nations Environment Programme) a publié un rapport concernant la protection de l'environnement lors des Jeux Olympiques de 2008. Recherche cette information et indique les 4 principaux problèmes qui restent à résoudre.

Réponse :

- La pollution atmosphérique ;
- La lutte contre les émissions de gaz à effet de serre ;
- La sensibilisation du public ;
- La nécessité d'accroître l'utilisation des transports en commun.

Parmi les problèmes encore à résoudre : la pollution atmosphérique, la lutte contre les émissions de gaz à effet de serre, la sensibilisation du public et la nécessité d'accroître l'utilisation des transports en commun.

<http://www.unep.org/Documents.Multilingual/Default.asp?DocumentID=519&ArticleID=5687&l=fr>





Défidocs 2007 / Géographie Corrigé

Question 1

- a) Cite les 6 couleurs représentées sur le drapeau olympique :
b) A l'origine des jeux, pourquoi ces couleurs ont-elles été choisies ?

Réponse :

- a) Les couleurs des anneaux sont : bleu, noir, rouge, jaune, vert et blanc.
b) Les cinq anneaux entrelacés représentent les cinq continents unis par l'olympisme, et les six couleurs (en comptant le blanc du drapeau) représentent toutes les nations car au moins l'une de ces couleurs est présente dans le drapeau de chaque pays.

Source : http://fr.wikipedia.org/wiki/Drapeau_olympique

Question 2

Complète ce texte

L'origine du marathon

Marathon est un _____, situé en Grèce à 39 km au nord-est d'_____. C'est là qu'eut lieu une célèbre _____, qui a opposé, en _____ avant Jésus-Christ, les Athéniens et les Perses.

A l'issue de la bataille, un soldat grec nommé _____, aurait accompli d'une traite à la course, la distance qui séparait le champ de bataille à Athènes où il devait apporter la nouvelle de la victoire. En arrivant, épuisé par l'effort, il _____. Depuis, une course dénommée marathon se déroule lors de chaque olympiade. Mais la distance n'était jamais calibrée. Les sportifs couraient sur des distances variables. En 1908, aux Jeux Olympiques de _____, les organisateurs eurent l'idée de donner à cette course un kilométrage précis. Ils calculèrent alors la distance séparant la terrasse du château de Windsor, ligne de départ, et les derniers 100 mètres du stade olympique, où ils établirent l'arrivée. Ils imposèrent alors une distance réglementaire fixée à _____ mètres.

Réponse :

Marathon est un **village**, situé en Grèce à 39 km au nord-est d'**Athènes**. C'est là qu'eut lieu une célèbre **bataille**, qui a opposé, en **490** avant Jésus-Christ, les Athéniens et les Perses.

A l'issue de la bataille, un soldat grec nommé **Philippides**, aurait accompli d'une traite à la course, la distance qui séparait le champ de bataille à Athènes où il devait apporter la nouvelle de la victoire. En arrivant, épuisé par l'effort, il **mourut**.

Depuis, une course dénommée marathon se déroule lors de chaque olympiade.

Mais la distance n'était jamais calibrée. Les sportifs couraient sur des distances variables. En 1908, aux Jeux Olympiques de **Londres**, les organisateurs eurent l'idée de donner à cette course un kilométrage précis. Ils calculèrent alors la distance séparant la terrasse du château de Windsor, ligne de départ, et les derniers 100 mètres du stade olympique, où ils établirent l'arrivée. Ils imposèrent alors une distance réglementaire fixée à **42195** mètres.

Source : http://www.lemarathon.ch/index_histoire.htm

Question 3

- a) Dans quel lieu est allumée la flamme olympique quelques mois avant la cérémonie d'ouverture de tous les jeux olympiques ?
b) Rends-toi sur le site <http://maps.google.fr/>, déplace-toi ou recherche l'emplacement. Observe bien pour **Obtenir l'URL de cette page** (il faudra bien rechercher dans la page car ce n'est pas uniquement <http://maps.google.fr/>).

Réponse :

a) Olympie

b) Exemple de bonne réponse :

<http://maps.google.fr/maps?f=q&hl=fr&geocode=&time=&date=&ttype=&q=olympie&sll=39.470125,25.246582&sspn=7.495442,14.941406&ie=UTF8&ll=37.794593,21.770782&spn=0.479654,0.933838&z=10&iwloc=C&om=0>

Question 4

Rends-toi à l'adresse http://www.eurosport.fr/jeuxolympiques/olympic-games/2012/mcplayervideo_vid56269.shtml et regarde la vidéo intitulée : **Jeux olympiques - Jeux Olympiques : Londres 2012**

Pour voir la vidéo, tu devras peut-être télécharger le plugin « Windows Media player ».

Réponds aux questions suivantes :

- 1) De quand date cette vidéo ?
- 2) Qui est interviewé ? Quelle est sa fonction ?
- 3) Quelle sera la capacité du stade pour les jeux olympiques de 2012 et quel est son prix ?
- 4) Quand doivent débiter les premiers travaux de construction du stade ?

Réponse :

- 1) Création le vendredi 09/11/2007 ou publication le samedi 10/11/2007 ;
- 2) Sebastien Coe, président du comité d'organisation des Jeux Olympiques de 2012 ;
- 3) 80 000 places, 712 000 000 € ;
- 4) En Avril ou mai 2008.

Question 5

Le Collectif "Chine JO 2008" a été initié par une dizaine d'associations françaises, soucieuses de rappeler aux autorités chinoises, qu'en accueillant les Jeux Olympiques, elles se sont engagées à améliorer la situation des droits de l'Homme.

Rends-toi sur le site <http://pekin2008.rsfblog.org/> et trouve **les huit revendications** formulées par les membres du Collectif Chine JO 2008.

Réponse :

1. Libérer les personnes emprisonnées depuis les manifestations de Tian An Men (1989) et tous les prisonniers d'opinion
2. Mettre fin au contrôle de l'information, y compris sur Internet
3. Suspendre les exécutions sur tout le territoire chinois en vue d'aboutir à l'abolition de la peine de mort
4. Supprimer la détention administrative
5. Mettre un terme à la pratique systématique de la torture
6. Permettre la constitution de syndicats libres et indépendants
7. Supprimer l'article 306 du Code pénal, qui permet la répression des avocats
8. Mettre fin aux expulsions forcées des citoyens de leur logement ou de leurs terres

Source : <http://pekin2008.rsfblog.org/>

Question 6

A l'adresse suivante <http://www.populationmondiale.com/images/monde.gif>, tu trouveras un planisphère. Enregistre-l'image sur ton ordinateur et modifie-la pour colorier les 3 pays des jeux olympiques de 2000, 2004 et 2008, en indiquant la ville et l'année des jeux.

Aide :

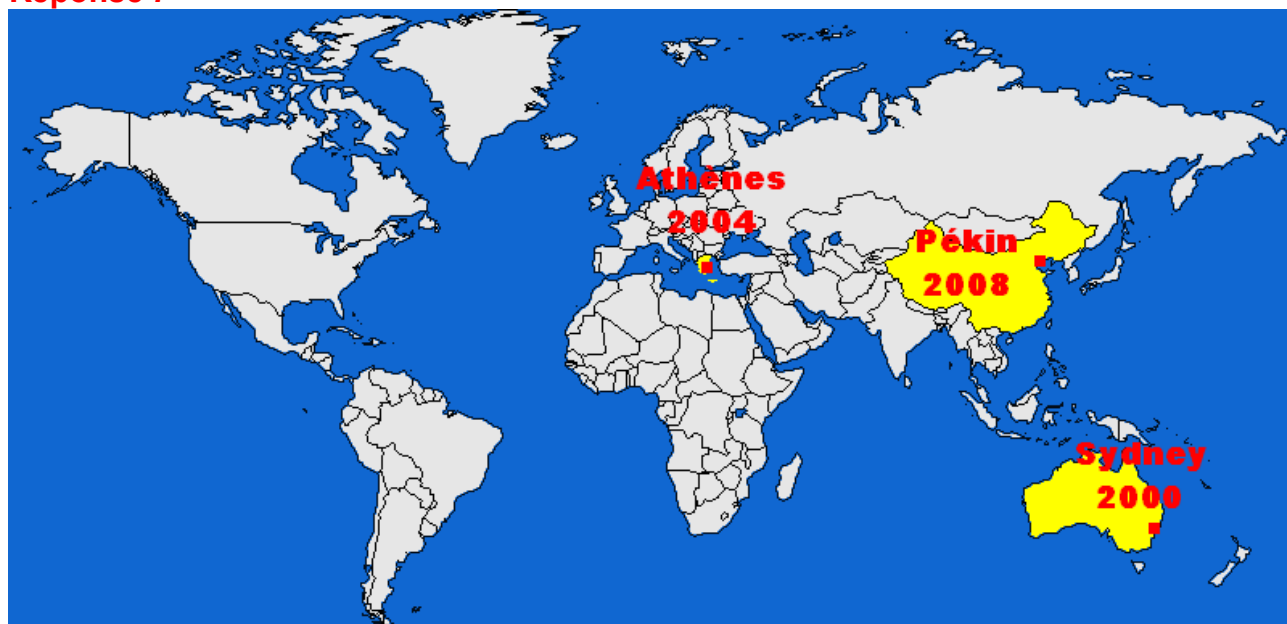
Pour avoir des informations complètes sur les pays, rends-toi sur le site :

<http://www.quid.fr/planisphere.html>

Pour t'entraîner à la localisation des états du monde, rends-toi à la page <http://geosense.net/> et clique sur "visit".

Pour modifier une image, tu peux utiliser le logiciel « Photofiltre » (voir [B2iade N°5](#)).

Réponse :





Défidocs 2008 Histoire Corrigé

Question 1

- a) A quelle date ont été créés les Jeux Olympiques antiques, en Grèce ?
- b) Qui a interdit les Jeux en 393 après Jésus-Christ ?

Réponse :

- a) 776 avant JC
- b) L'Empereur romain Théodose 1er

Question 2


La renaissance des Jeux Olympiques a été proclamée officiellement le 23 juin 1894.

- a) Dans quelle ville ?
- b) Combien de nations participaient au premier Congrès Olympique ?

Réponse :

- a) Paris (Sorbonne)
- b) 13

Question 3



Ce héros grec légendaire représenté ici sur une coupe antique est, selon l'orateur Lysias, le fondateur des Jeux.

- a) Quel est son nom ?
- b) La peau de bête qu'il porte sur lui renvoie à un exploit qu'il a accompli. Lequel ?

Réponse :

- a) Héraklès ou Hercule
- b) La mise à mort du lion de Némée

Question 4

- a) Dans quel pays le baron Pierre de Coubertin découvre-t-il l'importance du sport dans l'éducation ?
- b) Trouve une photo de lui et insère-la ci-dessous.

Réponse :

- a) L'Angleterre



b)

Question 5

A l'origine, le **stade** est la mesure de la longueur de la course (*dromos*) qui ouvrait les Jeux antiques.

a) Quelle était-cette mesure ?

b) Quel honneur revenait au vainqueur de cette course ?

Réponse :

a) 192,27 m (600 pieds olympiques, pied d'Héraklès)

b) Il allumait la flamme de l'autel de Zeus et donnait son nom à l'olympiade.

Question 6

Trouve les personnalités dont il s'agit :

- 1) Il remporte quatre médailles d'or aux J.O. de Berlin, en 1936 ;
- 2) Il est à l'origine de la devise olympique. : « Citius, altius, fortius » ;
- 3) Il fut le premier président du CIO ;
- 4) Il fut le premier athlète noir médaillé d'or olympique aux Jeux.

Réponses :

1) Jesse Owens, 2) Abbé Didon, 3) Demetrius Vikelas, 4) William DeHart Hubbard (USA)





Défidocs 2008 Sports Corrigé

Question 1

a) Le pentathlon moderne est un sport olympique. Quelles sont les disciplines qui le composent ? Complète le texte ci-dessous.

Le _____ vient en premier. Les pentathlètes disposent de 40 secondes pour tirer 20 coups avec un pistolet à air comprimé sur une cible de 17 cm carrés à une distance de 10 mètres.

L' _____ suit, avec les éliminatoires réunissant tous les concurrents.

La _____ vient ensuite, avec une course en nage libre de 200 mètres, les athlètes têtes de série des éliminatoires étant sélectionnés selon leur meilleur temps personnel. Après s'être séchés, les pentathlètes passent à la partie _____, où ils disposent de 20 minutes pour apprendre à connaître le cheval avant le parcours. L'épreuve finale est une _____ de 3000 m, les pentathlètes partant à des intervalles correspondant à leurs points de sorte que la première personne à franchir la ligne remporte la médaille d'or.

b) Quel est le seul animal présent aux Jeux Olympiques ?

Réponse :

a) Le **tir** vient en premier. Les pentathlètes disposent de 40 secondes pour tirer 20 coups avec un pistolet à air comprimé sur une cible de 17 cm carrés à une distance de 10 mètres. L'**escrime** suit, avec les éliminatoires réunissant tous les concurrents. La **natation** vient ensuite, avec une course en nage libre de 200 mètres, les athlètes têtes de série des éliminatoires étant sélectionnés selon leur meilleur temps personnel. Après s'être séchés, les pentathlètes passent à la partie **saut d'obstacles ou équitation**, où ils disposent de 20 minutes pour apprendre à connaître le cheval avant le parcours. L'épreuve finale est une **course à pied ou cross-country** de 3000 m, les pentathlètes partant à des intervalles correspondant à leurs points de sorte que la première personne à franchir la ligne remporte la médaille d'or.

b) Le cheval (1 point)

Source : http://www.olympic.org/fr/sports/programme/disciplines_fr.asp?DiscCode=MP

Question 2

Voici le descriptif d'un sport qui ne fait plus partie des Jeux Olympiques actuels :

Deux équipes de huit personnes, dont le poids total ne doit pas excéder un poids décidé suivant la catégorie, s'alignent à chaque bout d'une corde d'environ 10 centimètres de circonférence. Deux lignes, espacées de huit mètres, sont tracées. Une fois le jeu commencé, chaque équipe essaye de faire dépasser à l'autre sa ligne ou de faire chuter l'adversaire.

a) De quel sport s'agit-il ?

b) Combien de fois ce sport a-t-il fait partie des JO ?

Réponse :

a) Le tir à la corde

b) 5 ou 6 fois

Source : http://fr.wikipedia.org/wiki/Tir_%C3%A0_la_corde

Question 3

En allant à l'adresse suivante, réponds aux questions ci-dessous concernant la **gymnastique artistique** :

Questions	Hommes	Femmes
Combien y a-t-il d'agrès au maximum ?		
Lesquels ?		
Combien de temps dure l'épreuve au sol ?		

Réponse :

Questions	Hommes	Femmes
Combien y a-t-il d'agrès au maximum ?	6	4
Lesquels ?	Sol, anneaux, cheval d'arçons, saut de cheval, barres parallèles, barre fixe	Sol, saut de cheval, poutre, barres asymétriques
Combien de temps dure l'épreuve au sol ?	70s	70s

Question 4

- a) Combien de sports composeront les Jeux Olympiques d'été de 2008 ?
 b) Quels sports ont été introduits aux Jeux Olympiques d'été de 2000 ?

Réponse :

a) Les Jeux Olympiques d'été comprennent 28 sports (et 38 disciplines).

Source : http://www.olympic.org/fr/sports/index_fr.asp

b) Triathlon et Taekwondo

Source : http://fr.wikipedia.org/wiki/Liste_des_sports_olympiques

Question 5

Grâce aux indices, retrouve le nom des sportifs dont il est question.

Il s'effondre dans les derniers mètres alors qu'il mène la course. Les juges le porteront jusqu'à l'arrivée. Il sera disqualifié pour « aide étrangère ».	
Une américaine de treize ans, remporte la médaille d'or en plongeon au tremplin.	
La flamme entre dans le stade portée par cet athlète âgé de 76 ans, vainqueur du marathon à Berlin.	
Il remporte la médaille d'or en poids mi-lourds aux jeux olympiques de 1960.	

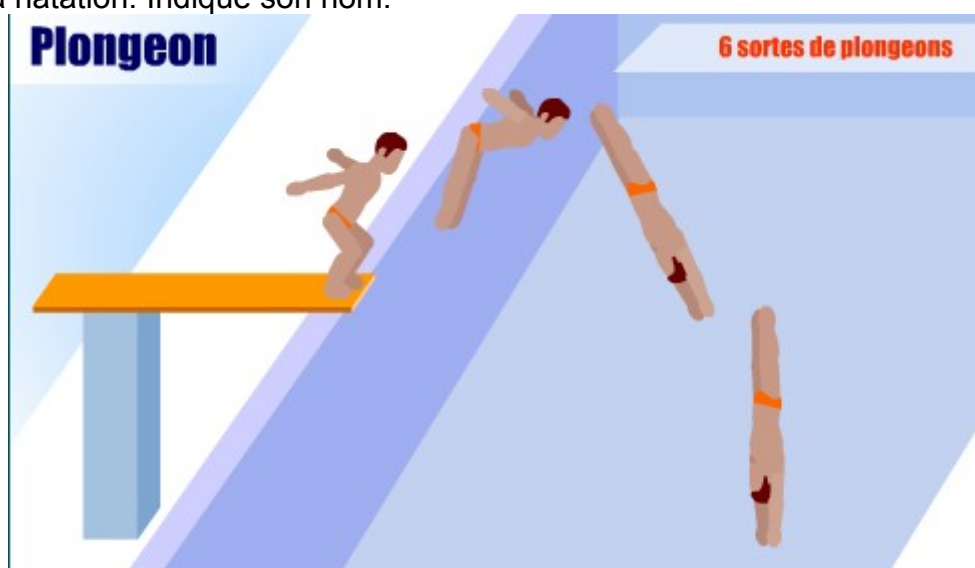
Réponse :

Il s'effondre dans les derniers mètres alors qu'il mène la course. Les juges le porteront jusqu'à l'arrivée. Il sera disqualifié pour « aide étrangère ».	Dorando Pietri http://fr.wikipedia.org/wiki/Jeux_Olympiques_d%27%C3%A9t%C3%A9_de_1908
Une américaine de treize ans, remporte la médaille d'or en plongeon au tremplin.	Marjorie Gestring http://www.sportsmarkette.com/Les-Jeux-

	Olympiques-de-Berlin.html
La flamme entre dans le stade portée par cet athlète âgé de 76 ans, vainqueur du marathon à Berlin.	Sohn Kee-Chung ou Kitei Son http://www.olympic.org/fr/games/past/innovations_fr.asp?OLGT=1&OLGY=1988
Il remporte la médaille d'or en poids mi-lourds aux jeux olympiques de 1960.	Cassius Clay ou Muhammad Ali

Question 6

- a) Pour la natation synchronisée, quelle est la profondeur du bassin olympique ?
b) Quelle est la liste des épreuves de plongeon au programme des Jeux Olympiques de 2008 pour les hommes et pour les femmes ?
c) L'image ci-dessous a été assombrie en utilisant la **barre d'outils image** de ton logiciel de traitement de texte. Affiche cette barre d'outils, modifie la luminosité pour faire apparaître une des disciplines de la natation. Indique son nom.



Réponse :

a) 2,5 à 3 m – 3 m

http://www.olympic.org/fr/sports/flash/open_fr.asp?flash_id=SY&season=summer

b)

- Haut vol 10m
- Plongeon synchronisé haut vol 10m
- Plongeon synchronisé tremplin 3m
- Tremplin 3m

http://www.olympic.org/fr/sports/programme/disciplines_fr.asp?DiscCode=DV

c) Le plongeon






Défidocs 2008 : Arts Corrigé

Question 1

- a) En l'honneur de quel dieu célébrait-on les Jeux Olympiques antiques ?
- b) Quels symboles lui sont attribués ?
- c) Trouve une médaille qui le représente ? (copie les deux faces de la médaille dans le tableau)





- d) Donne le nom du monument représenté sur le revers de la médaille.

Réponses :

- a) Zeus
- b) L'aigle et le foudre
- d) Le Parthénon

Question 2

a) Retrouve le lieu et l'année de ces jeux	b) Que représente ce détail ?
	

Réponse :

- a) Rome 1960
- d) La louve allaitant Rémus et Romulus

Question 3

- a) Regarde bien cette copie en marbre d'une statue antique et son détail agrandi. Quel sport représente-t-elle ?



- b) Quel nom donne-t-on à cette sculpture ?
- c) Donne le nom du sculpteur de l'oeuvre originale.
- d) En quelle matière était l'oeuvre originale ?

Réponse :


- a) Le lancer du disque ;
- b) Le discobole ;
- c) Myron ;
- d) en bronze.

Question 4

- a) Qu'est-ce qu'un aurige ?
- b) Insère ci-dessous la reproduction de l'aurige de Delphes.
- c) Pour quel événement cette statue fut-elle consacrée ?

Réponse :

- a) Un conducteur de char ;
- b)



- c) Pour célébrer la victoire du char de course de Polyzalos aux jeux Pythiques.

Question 5

- a) Rends-toi sur le site :

http://www.chine-informations.com/guide/le-slogan-des-jeux-olympiques-de-beijing-2008_1290.html

Regarde la vidéo sur le slogan des Jeux Olympiques de Beijing 2008. A la fin de cette vidéo, on découvre le slogan en chinois et sa traduction anglaise. Traduis ici ce slogan (en français)

- b) Trouve les 4 messages dont l'emblème suivant est porteur.



Réponse :

a) Un monde, un rêve.

b) « La culture chinoise », « la couleur rouge de la Chine », « Pékin accueillant les amis du monde entier », « défier l'extrême, réaliser la perfection et promouvoir la devise olympique : Citius, Altius, Fortius ».

Question 6

Renseigne le tableau en indiquant la ville et l'année où se sont déroulés les jeux représentés par les affiches ci-dessous, associe la photo de la torche correspondante.

Réponse :

Affiche				
Ville /année	Helsinki, 1952	Londres, 1948	Moscou, 1980	Tokyo, 1964
Torche				

