

2021 Le tour du monde en BD 1

Créé le : 28 janv. 2020

Date limite : Pas encore diffusé



Le tour du monde en BD 1 : Les mangas

En Asie, un genre bien particulier de bandes-dessinées existe depuis la fin du XVIIIe siècle et est aujourd'hui mondialement réputé : le manga.

1

Complétez le texte à trous ci-dessous.

Un manga est une bande dessinée d'origine _____ . Ce mot a pour

étymologie "image dérisoire" ou " _____ "

_____ ". Un auteur de mangas s'appelle un _____ . Les

mangas sont en _____ et _____ et possèdent beaucoup de

planches (pages). Ils se lisent traditionnellement de _____ à

. Il existe plusieurs sortes de mangas : par exemple les


_____, destinés aux jeunes filles, et les shônens, destinés aux jeunes

garçons.

Coef. 1

2

A l'aide de l'outil crayon, écrivez le mot manga en langue kanji.



Coef. 1

FIN DU QUESTIONNAIRE

Lorsque vous avez terminé le questionnaire, vérifiez-le bien, indiquez votre **prénom et votre classe** dans le champ "**Inscrivez votre nom**" en haut à droite de l'écran et cliquez sur "**Envoyer sa copie**".

Ne répondez qu'UNE SEULE FOIS, seule votre première réponse sera examinée.

2021 Le tour du monde en BD 2

Créé le : 28 janv. 2020

Date limite : Pas encore diffusé



Le tour du monde en BD 2 : La BD aux États-Unis

Beaucoup de bandes dessinées américaines créées au cours du XXe siècle existent encore aujourd'hui, notamment grâce au cinéma.

1

Comment s'appelle la BD aux États-Unis ?

Beaucoup de ces BD mettent en scène des super héros.

Trouvez les informations manquantes pour quatre d'entre eux.

--- NOM --- POUVOIR --- ANNÉE DE CRÉATION --- ANIMAL DE RÉFÉRENCE ---

1) - _____ - _____ - 1962 - Fourmi -

2) - Catwoman - Se déplace sans bruit. - _____ - _____ -

3) - _____ - Peut sauter d'immeubles en immeubles. - 1962 -

_____ -

4) - _____ - Possède des sens hyper développés. - _____ -

Loup -

Coef. 1

Choisissez un animal, inventez-lui un nom de super-héros et indiquez un de ses super-pouvoirs.

FIN DU QUESTIONNAIRE

Lorsque vous avez terminé le questionnaire, vérifiez-le bien, indiquez votre **prénom et votre classe** dans le champ "**Inscrivez votre nom**" en haut à droite de l'écran et cliquez sur "**Envoyer sa copie**".

Ne répondez qu'UNE SEULE FOIS, seule votre première réponse sera examinée.

2021 Le tour du monde en BD 3

Créé le : 28 janv. 2020

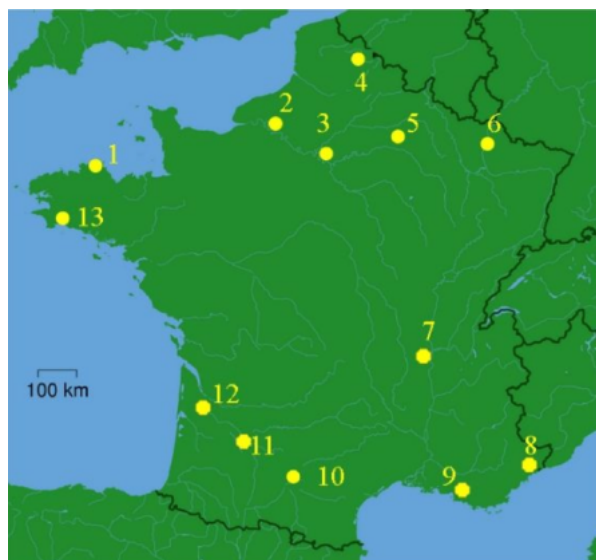
Date limite : Pas encore diffusé



Le tour du monde en BD 3 : Le tour de Gaule

Dans l'album "Le Tour de Gaule d'Astérix" publié en 1965, Astérix et Obélix lancent le défi suivant à un Romain : franchir la palissade que les Romains viennent de construire autour de leur village, faire le tour de la Gaule et ramener comme preuves une spécialité gastronomique de chacune des villes gauloises qu'ils traverseront.

A l'aide de la carte suivante, remplissez les cases vides du tableau ci-dessous.



- N° - Nom de la ville dans Astérix - Nom actuel de la ville -

- 2 - Rotomagus - Rouen -

- 8 - _____ - _____ -

- 1 - Village d'Astérix – n'existe pas -

- 3 - _____ - _____ -

- _____ - _____ – Bordeaux -

- 6 - Divodurum – Metz -

- _____ - Camaracum – _____ -

- 13 - Gesocribate - Le Conquet -

- 10 - Tolosa – Toulouse -

- 5 - Durocortorum – Reims -

- 11 - Agínnum – Agen -

- 7 - Lugdunum – Lyon -

- 9 - Massilia – Marseille -

Coef. 1

FIN DU QUESTIONNAIRE

Lorsque vous avez terminé le questionnaire, vérifiez-le bien, indiquez votre **prénom et votre classe** dans le champ "**Inscrivez votre nom**" en haut à droite de l'écran et cliquez sur "**Envoyer sa copie**".

Ne répondez qu'UNE SEULE FOIS, seule votre première réponse sera examinée.

2021 Le tour du monde en BD 4

Créé le : 28 janv. 2020


Date limite : Pas encore diffusé




Le tour du monde en BD 4 : Les voyages de Tintin

Tintin est un grand reporter qui parcourt le monde pour vivre ses aventures.

Dans les quatre albums ci-dessous, il visite des pays situés sur quatre continents différents.





1

Retrouvez la capitale de chaque pays et à l'aide de l'outil en ligne [Scribblemaps](https://www.scribblemaps.com/) réalisez une carte sur laquelle vous positionnerez des marqueurs à l'emplacement de chacune de ces villes et en y ajoutant celle où Tintin réside.

Visualisez tous les marqueurs à l'écran puis réalisez une capture d'écran de la carte et ajoutez-la comme réponse.

Aides en bas de page.

Coef. 1

2

Réalisez une estimation (vol d'oiseau) de la distance totale parcourue par Tintin lors ces quatre aventures.

Distance parcourue : _____ km

Coef. 1

Aide Scribblemaps :

Document vidéo

Source : <https://www.youtube-nocookie.com/embed/rp8xSlbyHCw>

Aide : [tutoriel capture d'écran](#)

FIN DU QUESTIONNAIRE

Lorsque vous avez terminé le questionnaire, vérifiez-le bien, indiquez votre **prénom et votre classe** dans le champ "**Inscrivez votre nom**" en haut à droite de l'écran et cliquez sur "**Envoyer sa copie**".

Ne répondez qu'UNE SEULE FOIS, seule votre première réponse sera examinée.